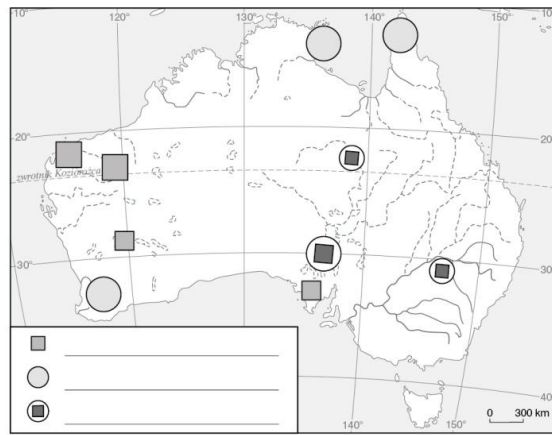
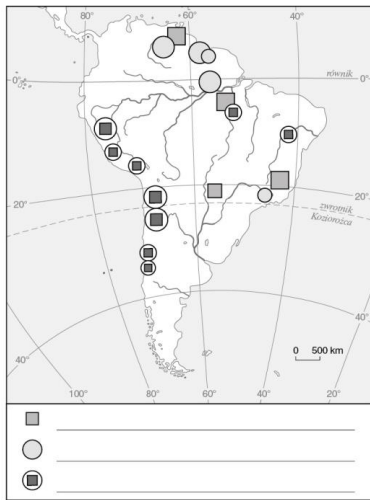
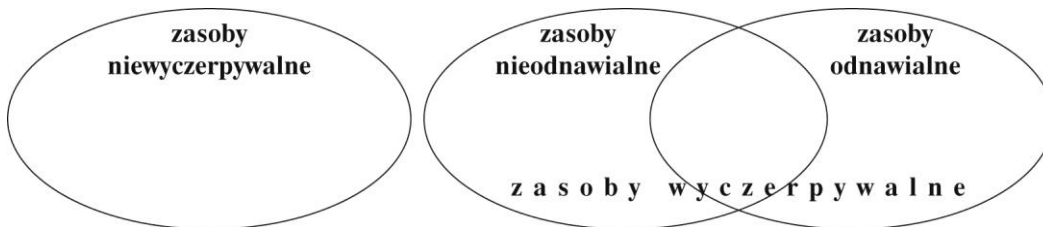


Zad. 1. Na mapie Ameryki Południowej i Australii zaznaczono główne ośrodki wydobycia surowców metalicznych. Uzupełnij legendę mapy, wpisując obok sygnatur właściwą nazwę surowca.



Zad. 2. Wpisz we właściwych miejscach litery odpowiadające wymienionym rodzajom zasobów naturalnych.



- A. rudy żelaza
- B. węgiel kamienny
- C. energia wiatru
- D. energia geotermiczna
- E. siarka
- F. piasek rzeczny
- G. energia wód płynących
- H. energia słoneczna
- I. las

Zad. 3. Uzupełnij tabelę

Rodzaj rudy	Kraje o największym wydobyciu	Procentowy udział w światowym wydobyciu	Zastosowanie metalu
ruda żelaza	1.		
	2.		
	3.		
ruda miedzi	1.		
	2.		
	3.		
boksyty - ruda	1.		
	2.		
	3.		